



地図帳活用ワークシート

～地理的な知識・技能の習得～

対応教科書：楽しく学ぶ 小学生の地図帳（地図-302）

地図帳活用ワークシート ～地理的な知識・技能の習得～

●先生方へ

- ・このワークシートは、小学校3年生～6年生を対象に、地図を通して地理的な知識・技能が習得できるよう構成しました。
- ・児童のみなさんが、地図帳を参考にしながら作業ができる内容としました。
- ・**●やってみよう** は基礎的、**●チャレンジ** は発展的なワークです。
※帝国書院発行『楽しく学ぶ 小学生の地図帳』（地図-302）の参照ページを示しています。
- ・学校内で、コピー原版としてご活用ください。ただし無断転載を禁じます。

●もくじ

番号	ワークシート名	おもな対象学年	関連する学習指導要領単元
1	地図のやくそくと使い方（方位・地図記号・きょり）	3, 4年生	3年生：2 (1) 身近な地域や市区町村の様子 4年生：2 (1) 都道府県の様子
2	外国から来た、身近な商品	3年生	2 (2) イ (イ) 地域に見られる生産や販売の仕事 （他地域や外国との関わり）
3	都道府県の名前と位置	4年生	2 (1) 都道府県の様子
4	47都道府県学習ゲーム	4年生	同 上
5	全国まちがい探しゲーム（九州地方、四国地方）	4年生	同 上
6	全国まちがい探しゲーム（中国地方、近畿地方）	4年生	同 上
7	全国まちがい探しゲーム（中部地方、関東地方）	4年生	同 上
8	全国まちがい探しゲーム（東北地方、北海道地方）	4年生	同 上
9	自然災害に対するさまざまな備え	4, 5年生	4年生：2 (3) 自然災害から人々を守る活動 5年生：2 (5) ア (ア) 自然災害
10	六つの大陸と三つの海洋	5年生	2 (1) ア (ア) 世界における我が国の国土の位置 2 (1) イ (ア) 世界の大陸と主な海岸 2 (3) ア (ウ) 貿易や運輸
11	歴史の舞台になった場所	6年生	2 (2) ア (シ) 我が国の歴史上の主な事象 2 (2) イ (ア) 代表的な文化遺産
12	世界一周旅行へ出発！	6年生	2 (3) グローバル化する世界と日本の役割

*日本地図と世界地図に関しましては、紙面の都合上、面積の小さい島や国などはっきりと読み取れないところがございます。ご了承のうえ、ご活用くださいますようお願い申し上げます。

ちず 地図のやくそくと使い方 (方位・地図記号・きょり)

年 組 番
名 前

● やってみよう

(1) 地図上では、建物や土地の様子がわかりやすくなるように地図記号が使われています。
下の「地図記号のもとになったもの」から生まれた「地図記号」を、(例)のように線で結びましょう。→p.11-12

ちず きごう
地図記号のもとになったもの

ちず きごう
地図記号

ちず きごう
地図記号のもとになったもの

ちず きごう
地図記号

(例) 昔、教育や文化などに関わる仕事をしていた文部省の「文」を記号にしたもの。

文 ———— 文

小学校・中学校

昔、郵便をあつかっていた逓信省の「テ」を記号にしたもの。

テ ———— テ

神社

昔の衛生隊の印を記号にしたもの。

+

郵便局

神社の入り口などにある鳥居の形。

⊗

警察署

仏教で使われる「卍」を記号にしたもの。

卍

病院

警察官が持っている警棒を交差させた形。

X

寺院(寺)

建物の形に関係なく、市の中心にあることをイメージしたもの。

●

畑

りんごやなしなどの果物を横から見た形。

○

果樹園(果物畑)

2枚の子葉の形。

◎

市役所

稲をかり取ったあとの切り株の形。

Y

消防署

本を開いたときの形。

||

田

昔、火事のために火の広がりを防ぐために使った形。

⌋

図書館

(2) 次の建物が下の地図にいくつあるか、地図記号を数えてみましょう。

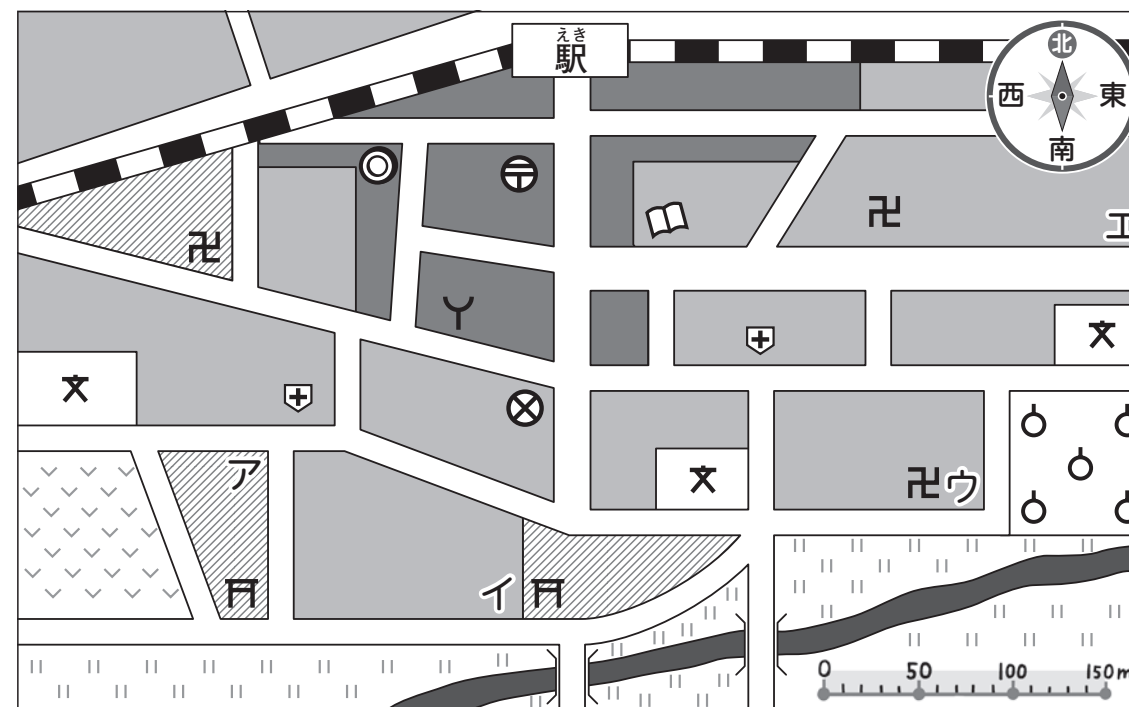
①小・中学校 () ②図書館 () ③寺院(寺) ()

(3) ①~④の手がかりをたよりに、たからものを探しましょう。たからものは、ア~エのどこかの場所にあります。→p.9-10, 11-13

☆手がかり

- ① 駅から南に進みます。
- ② 警察署のある交差点を東へ曲がり、家の多い所を100m進みます。
- ③ 病院のあるT字路を南に曲がります。
- ④ 学校のある交差点を東に100m進んだ所に、たからものがあります。

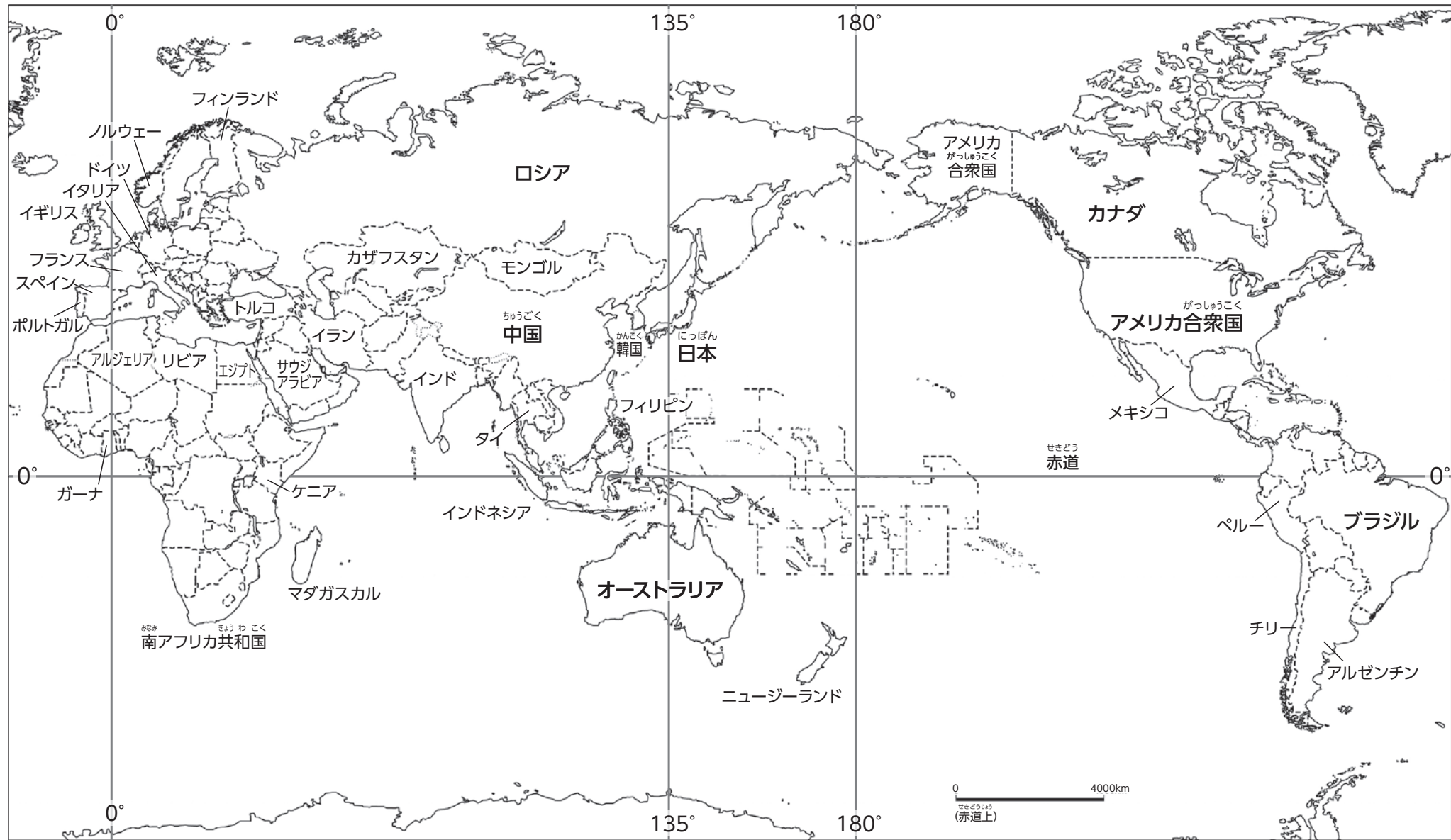
たからもの場所(記号)



文	小学校・中学校	⊗	警察署	Y	消防署	+	病院
⊕	郵便局	卍	神社	卍	寺院(寺)	⌋	図書館
◎	市役所		橋		田	▽	畑
○	果樹園(果物畑)	⌋	みせ 家の多い所	■	家が多い所	▨	緑の多い所

がいこく き みちか しょうひん
外国から来た、身近な商品

年 組 番
 名 前



●やってみよう

(1) 下の図は、スーパーマーケットのチラシの一部です。商品の産地の国を上の地図から探して、赤色でぬりましょう。→p.118-120

ブラジル産
コーヒー豆
 300g **¥1500**

オーストラリア産
牛肉
 600g **¥880**

ガーナ産
チョコレート
 24枚 **¥240**

(2) 下の表は、(1)の3か国の国旗です。どの国の国旗か地図帳で調べて国名を書きこみ、表を完成させましょう。→p.118-120

	①	②	③
こっき国旗			
こくめい国名			

●チャレンジ

(1) 近くのスーパーマーケットのチラシや売り場の表示から、外国が産地の商品を1つ調べて、下の表に書きましょう。

しょうひん 商品の名前	さんち 産地 (国名)

(2) 調べた国を上地図で探して、青色でぬりましょう。(上の地図に国名がないときは地図帳で調べましょう。)->p.118-120

とどうふけん なまえ いち 都道府県の名前と位置

年 組 番
名前

●やってみよう

とどうふけん なまえ かんじ
都道府県の名前の漢字をなぞり、その場所を地図帳で調べてみましょう。
しらべたら、その都道府県の場所を(例)のようにぬりましょう。→p.116-117

ちゅうごくちほう けん 中国地方 (5県)

- 31 鳥取県 (とつ とり けん)
- 32 島根県 (しま ね けん)
- 33 岡山県 (おか やま けん)
- 34 広島県 (ひろ しま けん)
- 35 山口県 (やま ぐち けん)

しこくちほう けん 四国地方 (4県)

- 36 徳島県 (とく しま けん)
- 37 香川県 (か がわ けん)
- 38 愛媛県 (え ひめ けん)
- 39 高知県 (こう ち けん)

きゅうしゅうちほう けん 九州地方 (8県)

- 40 福岡県 (ふく おか けん)
- 41 佐賀県 (さ が けん)
- 42 長崎県 (なが さき けん)
- 43 熊本県 (くま もと けん)
- 44 大分県 (おお いた けん)
- 45 宮崎県 (みや ざき けん)
- 46 鹿児島県 (か ご しま けん)
- 47 沖縄県 (おき なわ けん)



ほっかいどうちほう けん 北海道地方 (1道)

- 1 北海道 (ほっ かい とう)

とうほくちほう けん 東北地方 (6県)

- 2 青森県 (あお もり けん)
- 3 岩手県 (いわ て けん)
- 4 宮城県 (みや ぎ けん)
- 5 秋田県 (あき た けん)
- 6 山形県 (やま がた けん)
- 7 福島県 (ふく しま けん)

かんとうちほう と けん 関東地方 (1都6県)

- 8 茨城県 (いばら き けん)
- 9 栃木県 (とち ぎ けん)
- 10 群馬県 (ぐん ま けん)
- 11 埼玉県 (さい たま けん)
- 12 千葉県 (ち ば けん)
- 13 東京都 (とう きょう と)
- 14 神奈川県 (か な がわ けん)

ちゅうぶちほう けん 中部地方 (9県)

- 15 新潟県 (にい がた けん)
- 16 富山県 (と やま けん)
- 17 石川県 (いし かわ けん)
- 18 福井県 (ふく い けん)
- 19 山梨県 (やま なし けん)
- 20 長野県 (なが の けん)
- 21 岐阜県 (ぎ ふ けん)
- 22 静岡県 (しず おか けん)
- 23 愛知県 (あい ち けん)

きんぎちほう ふ けん 近畿地方 (2府5県)

- 24 三重県 (み え けん)
- 25 滋賀県 (し が けん)
- 26 京都府 (きょう と ふ)
- 27 大阪府 (おお さか ふ)
- 28 兵庫県 (ひょう ご けん)
- 29 奈良県 (な ら けん)
- 30 和歌山県 (わ か やま けん)

●やってみよう

(1) 日本には海に面していない都道府県が8つあります。それぞれの名前をすべて書きましょう。→p.116-117

(2) 日本で1番面積の小さい都道府県はどこですか。

その名前を に書きましょう。→p.103

(3) 日本で3番目に面積の大きい都道府県はどこですか。

その名前を に書きましょう。→p.103

●チャレンジ

地図帳を見ながらゲームをしましょう。→p.116-117

<ゲームの進め方>

- 2人1組になり、それぞれ自分の色を1つ決めましょう。
- 北海道と沖縄県どちらかを選び、道・県の名前を○で囲み、自分の色をぬります。
- じゃんけんをし、勝った人は、自分の色となり合う都府県を選んで、色をぬっていきます。より多くの都道府県に、自分の色をぬった人が勝ちです。
※海をへだててとなり合う都道府県も選べます。



ぜんこく さが きゅうしゅう ち ほう しこく ち ほう 全国まちがい探しゲーム (九州地方, 四国地方)

年 組 番
名 前

● やってみよう

(1) 下の九州地方の地図には、(例)の のようなまちがいがあると5つあります。
地図帳の九州地方と見比べながら、まちがいを探して、○で囲みましょう。→p.33-34, 31②

(2) 下の四国地方の地図には、(例)の のようなまちがいがあると5つあります。
地図帳の四国地方と見比べながら、まちがいを探して、○で囲みましょう。→p.39-40, 41-42



ヒント 山や山地、県の名前、農業や水産業のイラストに注目しよう。

ヒント 海や県庁所在地、県の名前、水産業や名産品のイラストに注目しよう。

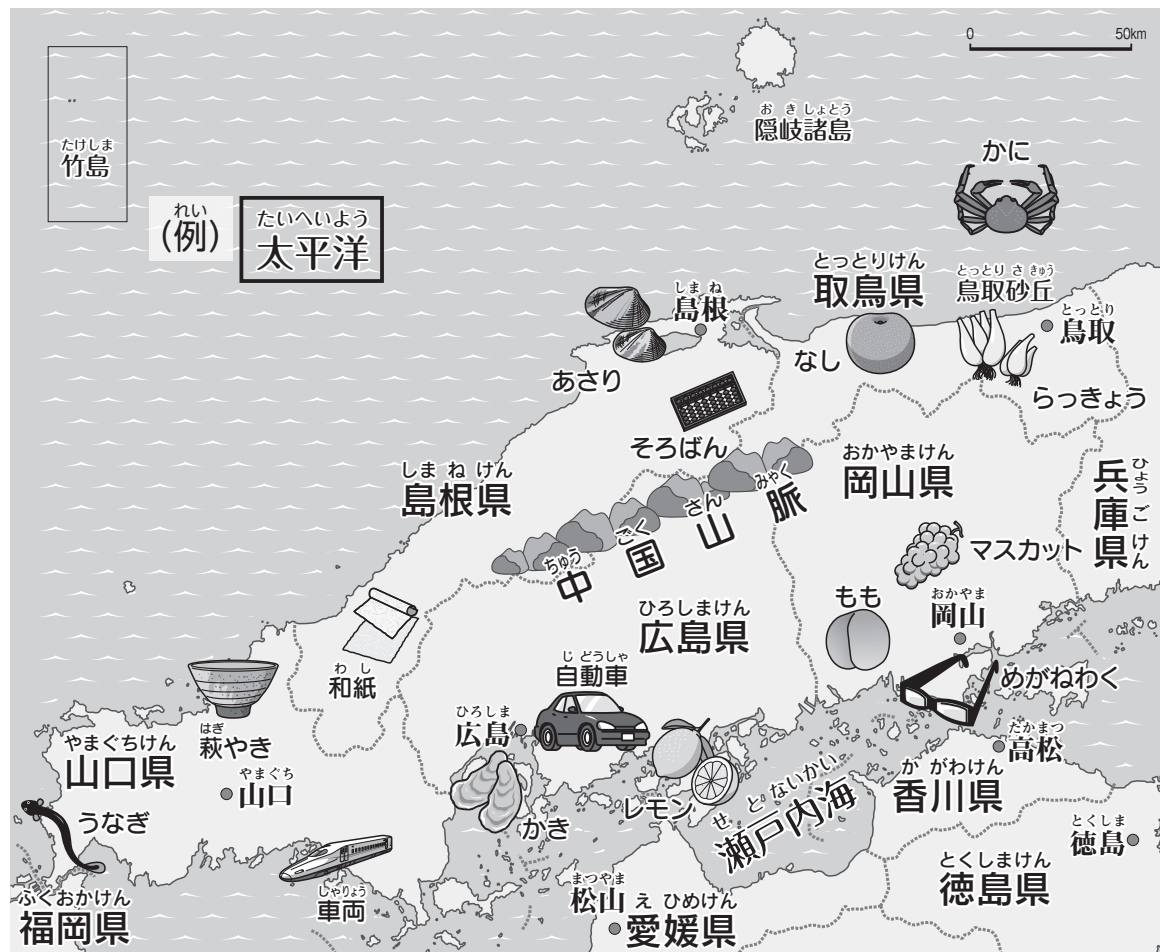
ぜんこく さが ちゅうごく ちほう きんきちほう 全国まちがい探しゲーム (中国地方, 近畿地方)

年 組 番
名 前

● やってみよう

(1) 下の中国地方の地図には、(例)の のようなまちがいがあると6つあります。
地図帳の中国地方と見比べながら、まちがいを探して、○で囲みましょう。→p.37-38, 41-42

(2) 下の近畿地方の地図には、(例)の のようなまちがいがあると6つあります。
地図帳の近畿地方と見比べながら、まちがいを探して、○で囲みましょう。→p.43-44, 45-46



ヒント 海や山地や県庁所在地、県の名前、水産業や名産品のイラストに注目しよう。



ヒント 湖や山地や県庁所在地や県の名前、農業や水産業のイラストに注目しよう。

ぜんこく さが とうほくちほう ほっかいどうちほう 全国まちがい探しゲーム (東北地方, 北海道地方)

年 組 番
名 前

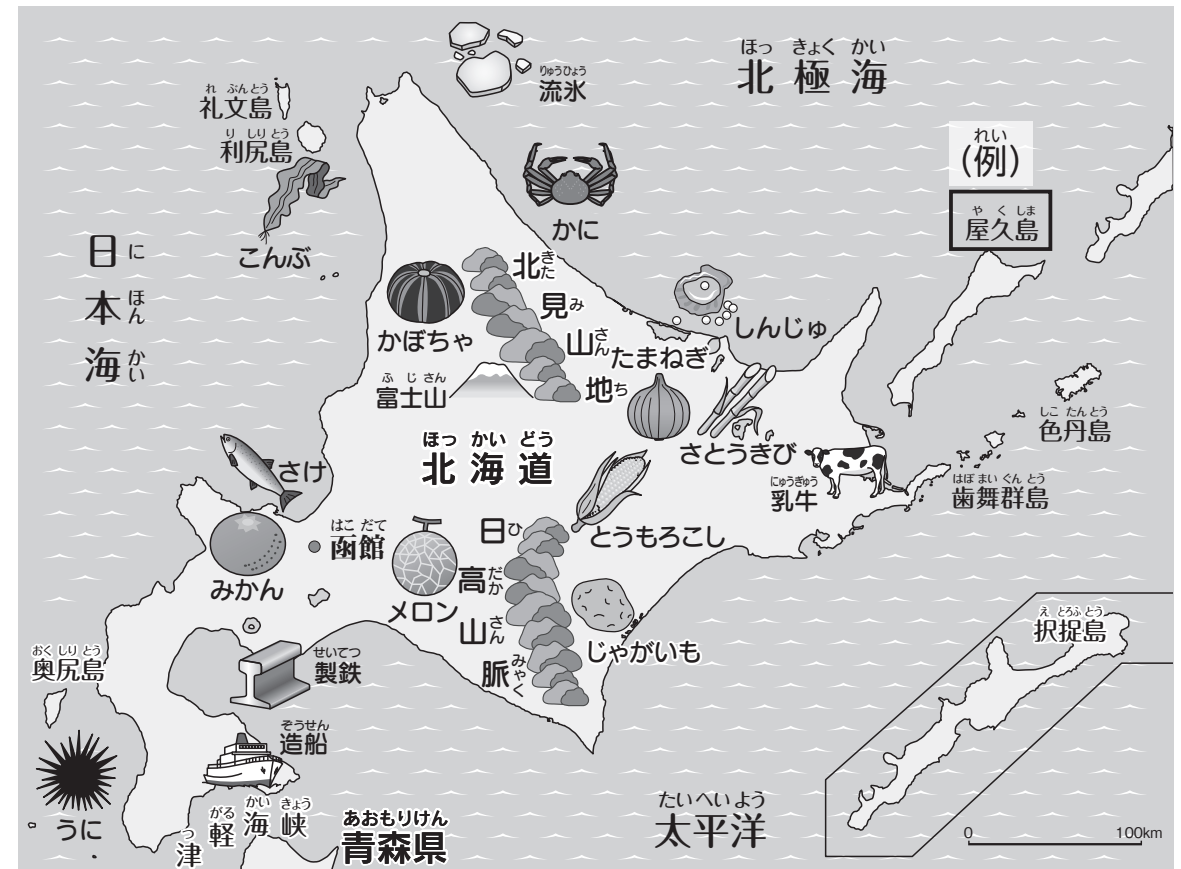
● やってみよう

(1) 下の東北地方の地図には、(例)の のようなまちがいがあると6つあります。
地図帳の東北地方と見比べながら、まちがいを探して、○で囲みましょう。→p.66-68

(2) 下の北海道地方の地図には、(例)の のようなまちがいがあると6つあります。
地図帳の北海道地方と見比べながら、まちがいを探して、○で囲みましょう。→p.69-70, 71-72



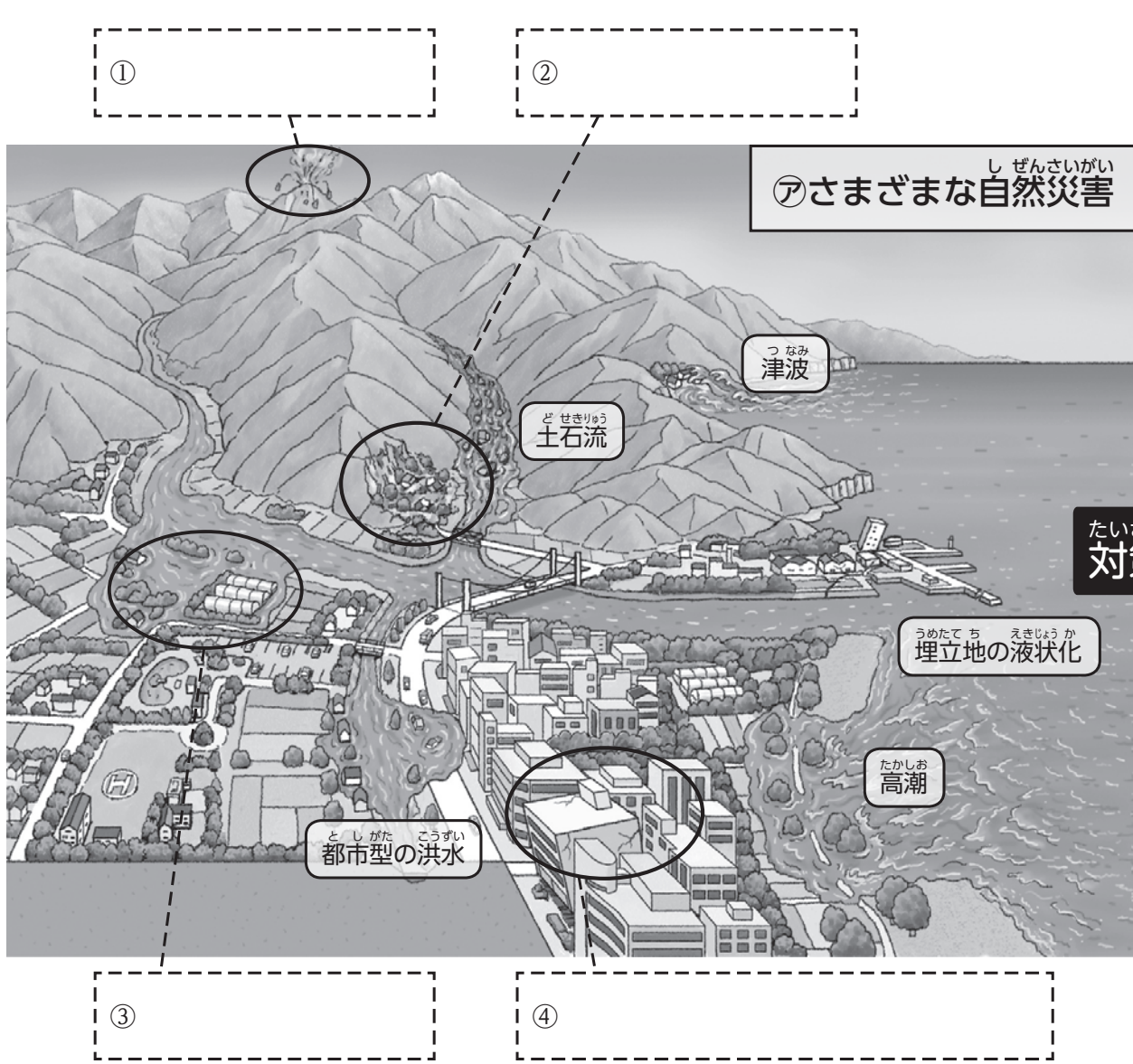
ヒント 海や山脈や県庁所在地、県の名前、農業や水産業や伝統的工芸品、動物のイラストに注目しよう。



ヒント 海や山や県庁所在地、県の名前、農業や水産業のイラストに注目しよう。

自然災害に対するさまざまな備え

年 組 番
名 前



① [] ② []

ア さまざまな自然災害



堤防とは、(⑤) を防ぐための高い壁

砂防ダムとは、山からの(⑥) を防ぐための丈夫な壁

イ さまざまな防災への取り組み

地下調節池とは、(⑦) の被害を軽くするために設けられた池。

防潮林とは、津波や(⑧) などの被害を軽くするために設けられた林。

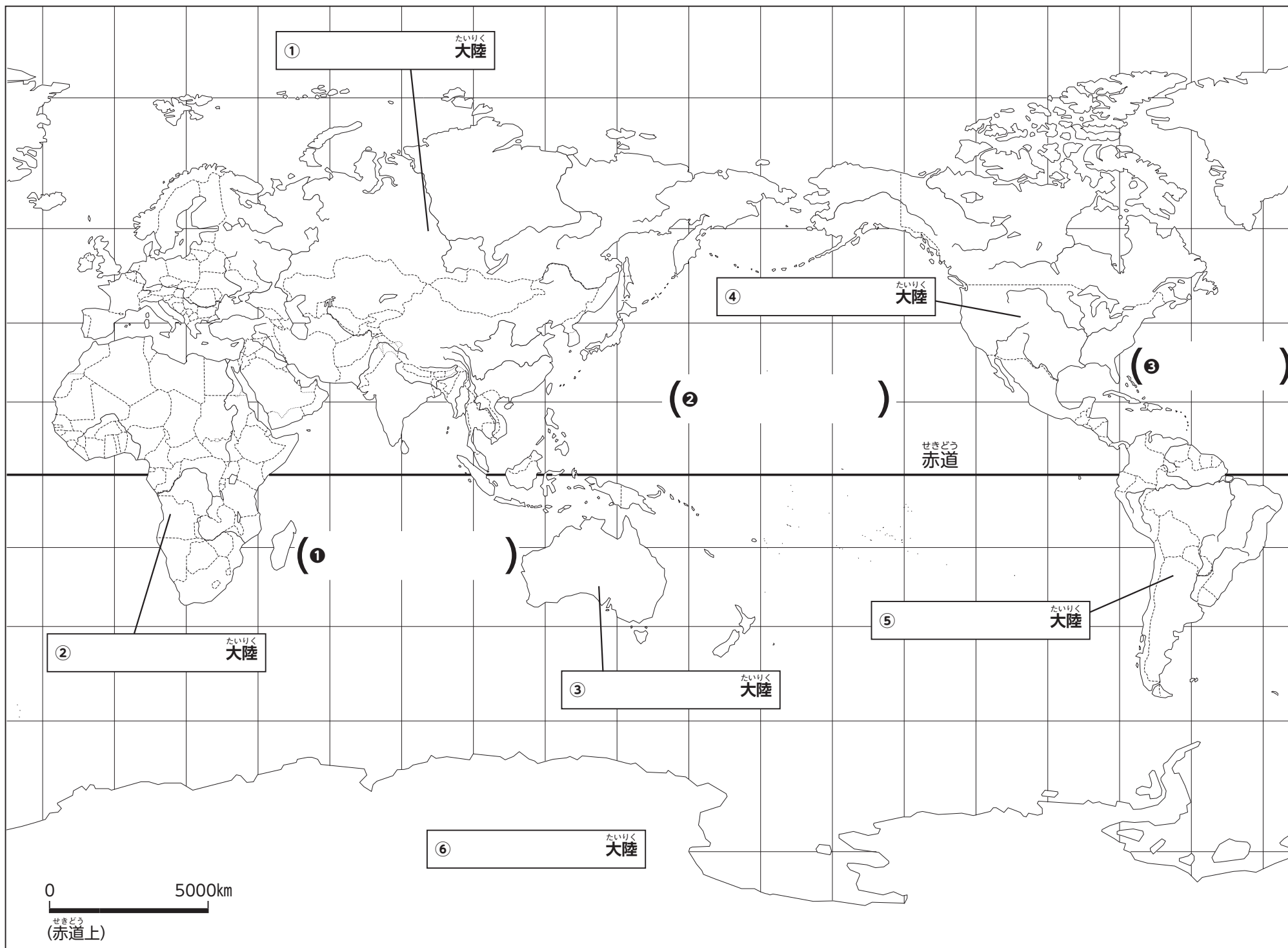
● やってみよう

上の2つの図(ア さまざまな自然災害, イ さまざまな防災への取り組み)を見て答えましょう。→p.93-94
 (1) ア図内のさまざまな自然災害の名前を、下のAの枠内から選び、①~④の [] に書きましょう。
 (2) イ図の⑤~⑧の災害の名前を、ア図を参考にして () に書きましょう。

A
 火山の噴火, 洪水, 崖くずれ, 地震による建物の被害

● チャレンジ

- 自分たちの住む地域では、過去にどのような自然災害が発生したのかを調べ、地図帳や地域の地図でその場所を確認してみましょう。
- 自分たちの住む地域では、今後想定される自然災害に対し、どのような備えをしているかを調べ、地図帳や地域の地図でその場所を確認してみましょう。



●やってみよう

- (1) 地図帳を見て、大陸の名前を地図中①～⑥の に書きましょう。
- (2) 地図帳を見て、三つの海洋の名前を地図中①～③の () に書きましょう。→p.73-74, 118-120
- (3) 地図帳を見て、次の文章の㉖～㉙にあてはまる言葉や国の名前を書きましょう。→p.29-30, 73-74, 75-76

☆南極と北極から等しいきよりにある
 地表面を結んだ線を赤道といいます。

赤道から北側を(㉖))、
 南側を(㉗))といい、
 日本はこのうち(㉘))
 に含まれます。

☆日本は(㉙))大陸の
 東方に位置しています。㉙大陸に
 あり、日本ととなり合う国には
 国交がない朝鮮民主主義人民共和国
 をのぞくと、
 (㉚)))
 (㉛)))
 (㉜)))
 があります。

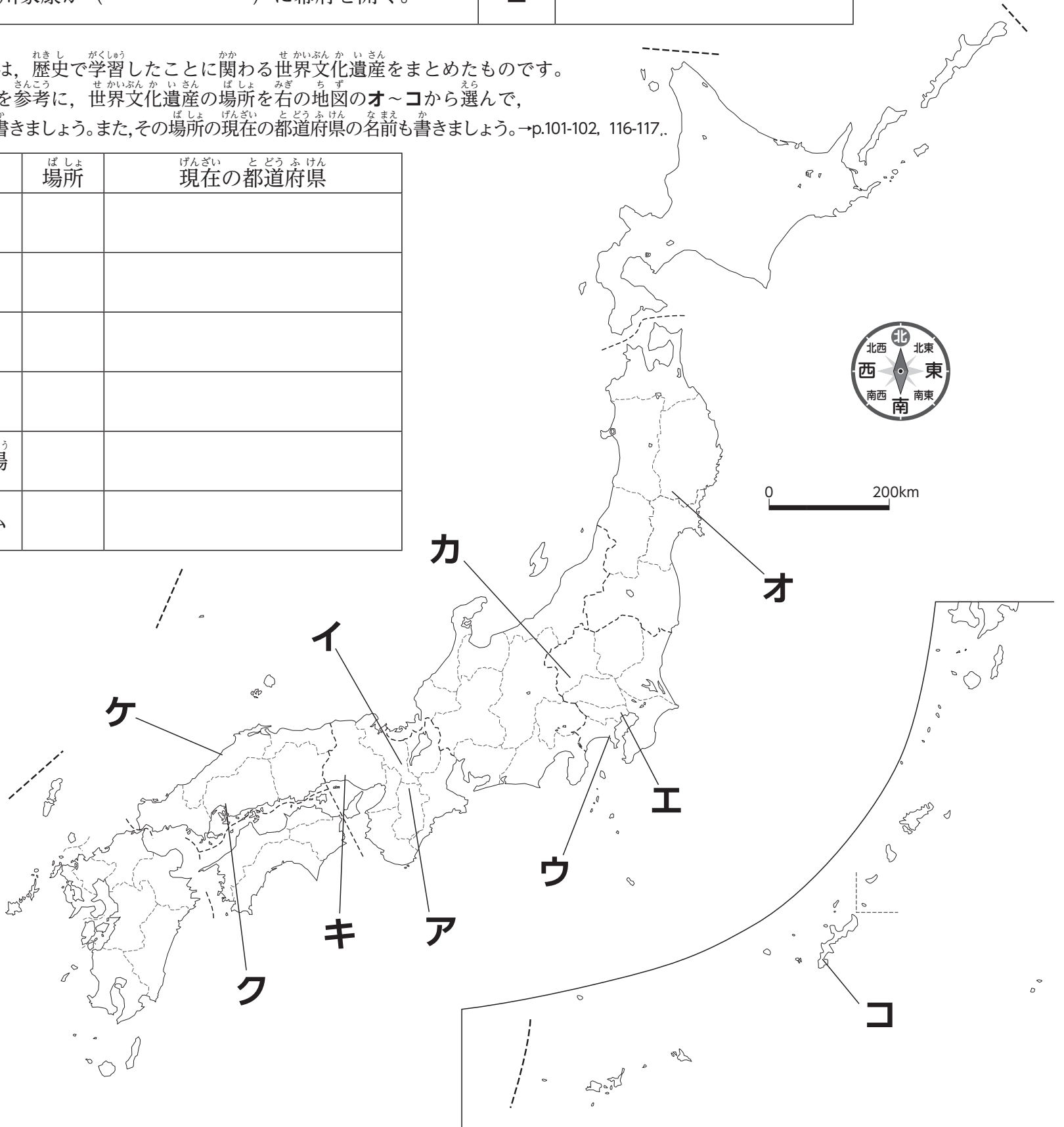
●やってみよう

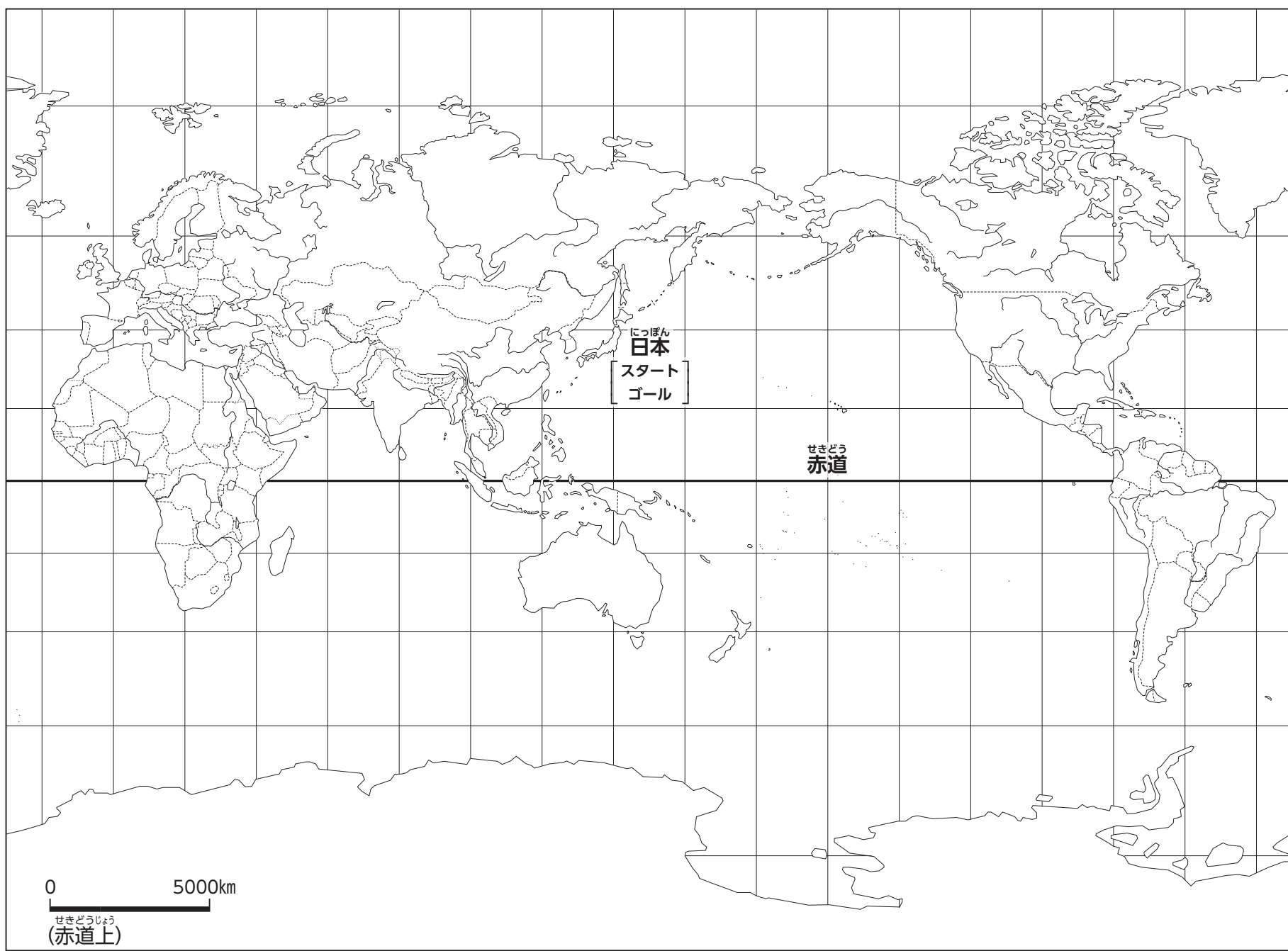
- (1) 下の年表は、日本の歴史上で政治の中心になった場所について、まとめたものです。
 年表の中の**ア～エ**は、地図上の**ア～エ**の場所に対応しています。
 下の地図や地図帳を参考にして、年表の()に、あてはまる場所の名前を書きましょう。
 また、その場所の現在の都道府県の名前も書きましょう。→p.101-102, 116-117

ねん年	できごと	ばしょ場所	げんざい とうふけん 現在の都道府県
710	()に都を移す。	ア	
794	()に都を移す。	イ	
1192	源頼朝が征夷大將軍になる。()幕府	ウ	
1603	徳川家康が()に幕府を開く。	エ	

- (2) 下の表は、歴史で学習したことに関する世界文化遺産をまとめたものです。
 地図帳を参考に、世界文化遺産の場所を右の地図の**オ～コ**から選んで、
 記号を書きましょう。また、その場所の現在の都道府県の名前も書きましょう。→p.101-102, 116-117.

なまえ 名前	ばしょ 場所	げんざい とうふけん 現在の都道府県
ひらいずみ 平泉		
しゅりじょうあと 首里城跡		
ひめじじょう 姫路城		
いわみぎんざん 石見銀山		
とみおかせいしじょう 富岡製糸場		
げんばく 原爆ドーム		





● やってみよう

さあ、^{せ かい いっ しゅう りょ こ う しゅ っ ぱ つ}世界一周旅行へ出発だ!
 (1) 下の①~②からコースを1つ選び、下の [] に書きましょう。→p.118-120

- ① ^{きたはんきうげんてい}北半球限定コース…^{きたはんきう}北半球(赤道より北側の地域)にある国だけで10か国選びます。
- ② ^{みなみはんきうげんてい}南半球限定コース…^{みなみはんきう}南半球(赤道より南側の地域)にある国だけで10か国選びます。

〈注意〉

- ・スタートとゴールは必ず日本にしましょう。
 - ・南極大陸はどこの国のものでもありませんが、ここでは南極大陸は1つの「国」として考えます。
- (2) どの国に行くのか地図帳で調べて、国の名前を下の [] に書きましょう。また地図内のその国を赤色でぬりましょう。
- (3) 行き先の国を線でつなぎ、世界一周旅行地図を完成させましょう。

● チャレンジ

- (1) 自由に世界一周旅行のコースを考えてみましょう。
 [例：日本と貿易のさかんな国コース]
- (2) そのコースが通る国の首都名や人口、面積を地図帳の統計で調べてみましょう。→p.105

えら 選んだコース () コース ←



解答

地図帳に直接書きこむワークの解答は、
専用ウェブサイトにて公開しています。
二次元コードを読み取りアクセスしてください。
パソコンにURLを送ると、印刷も可能です。

ワークシート①

●やってみよう



(2) ①3 ②1 ③3

(3) ウ

ワークシート②

●やってみよう



(2) ①ブラジル ②ガーナ ③オーストラリア

●チャレンジ

(1) 例：サーモン／ノルウェー

(2) 略

ワークシート③

●やってみよう

略

ワークシート④

●やってみよう

(1) 栃木県／群馬県／埼玉県／山梨県／長野県／
岐阜県／滋賀県／奈良県 (順不同)

(2) 香川県

(3) 福島県

●チャレンジ

略

ワークシート⑤～⑧

●やってみよう



ワークシート⑨

●やってみよう

(1) ①火山の噴火 ②崖くずれ ③洪水

④地震による建物の被害

(2) ⑤洪水 ⑥土石流 ⑦都市型の洪水 ⑧高潮

●チャレンジ

(1) 略

(2) 略

ワークシート⑩

●やってみよう

(1) ①ユーラシア ②アフリカ ③オーストラリア

④北アメリカ ⑤南アメリカ ⑥南極

(2) ①インド洋 ②太平洋 ③大西洋

(3) ㉞北半球 ㉟南半球 ㊱北半球

㊲ユーラシア ㊳大韓民国

㊴中華人民共和国 ㊵ロシア連邦

※㉞～㊵は順不同

ワークシート⑪

●やってみよう

(1) ア：平城京／奈良県

イ：平安京／京都府

ウ：鎌倉／神奈川県

エ：江戸／東京都

(2) 平泉：オ／岩手県

首里城跡：／コ／沖縄県

姫路城：キ／兵庫県

石見銀山：ケ／島根県

富岡製糸場：カ／群馬県

原爆ドーム：ク／広島県

ワークシート⑫

●やってみよう

(1) 例：北半球限定コース

(2) 例：ロシア連邦→ウクライナ→ルーマニア→

→ブルガリア→トルコ→イラン→トルクメニスタン

→ウズベキスタン→カザフスタン→中華人民共和国

／色ぬりは略

(3) 略

●チャレンジ

(1) 例：日本と貿易のさかんな国コース

(日本の輸出額または輸入額が4500億円以上の国)

中華人民共和国→インド→オマーン

→アラブ首長国連邦→サウジアラビア→カタール

→イラン→ロシア連邦→カナダ→アメリカ合衆国

(2) 略

教授用
資料

地図帳活用ワークシート

～地理的な知識・技能の習得～ 楽しく学ぶ 小学生の地図帳(地図-302)版

編集協力：片田暁美（兵庫県淡路市立学習小学校 主幹教諭）

2021年9月発行

発行所 〒101-0051 東京都千代田区神田神保町3-29

株式会社 帝国書院 発行人 佐藤 清

電話 03-3262-4795(代)

<https://www.teikokushoin.co.jp/>