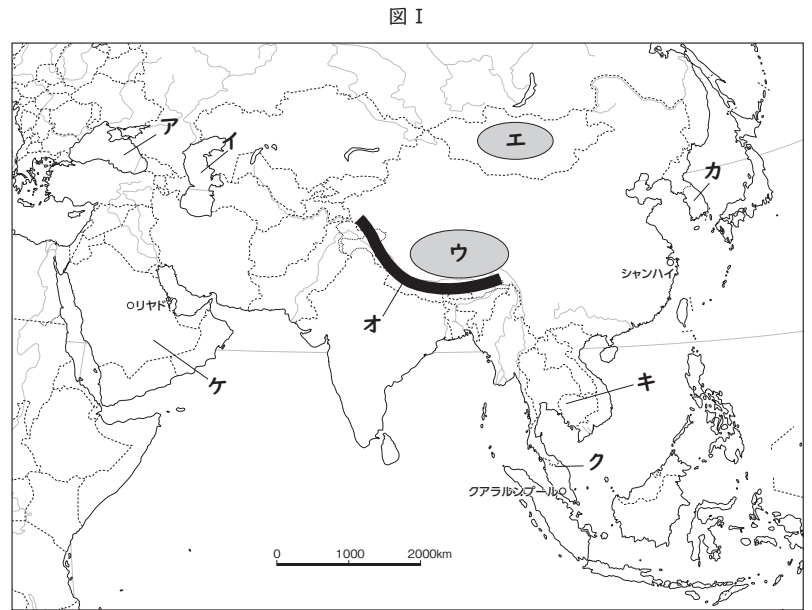


Ⅰ. ユーラシア大陸に広がるアジア

(1) 図Ⅰのア～ケの名称を記入してみよう。

ア	海
イ	海
ウ	高原
エ	高原
オ	山脈
カ	半島
キ	半島
ク	半島
ケ	半島



(2) 赤道を図Ⅰに青線で記入してみよう。



(3) アジア州は図Ⅱのように区分できますが、このとき、東アジアと南アジア・中央アジアとの境界はどのような場所にあるのか、説明してみよう。

(4) ロシアをヨーロッパとアジアに分けるときに、その境界になっている地形の名称を答えよう。

(5) アジアには、黄河、長江、メコン川、ガンジス川などの大きな河川があります。

① 黄河、長江、メコン川、ガンジス川を、図Ⅰに赤線で記入してみよう。

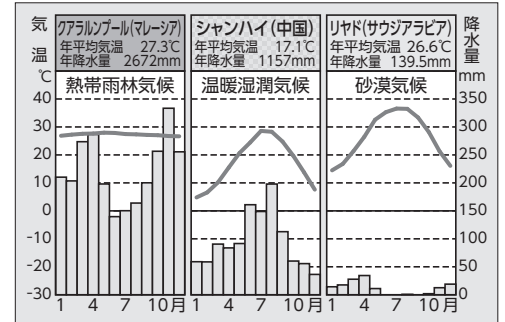
② それらの河川を図Ⅱに記入し、共通点を挙げてみよう。

2. 季節風が育むアジアの気候

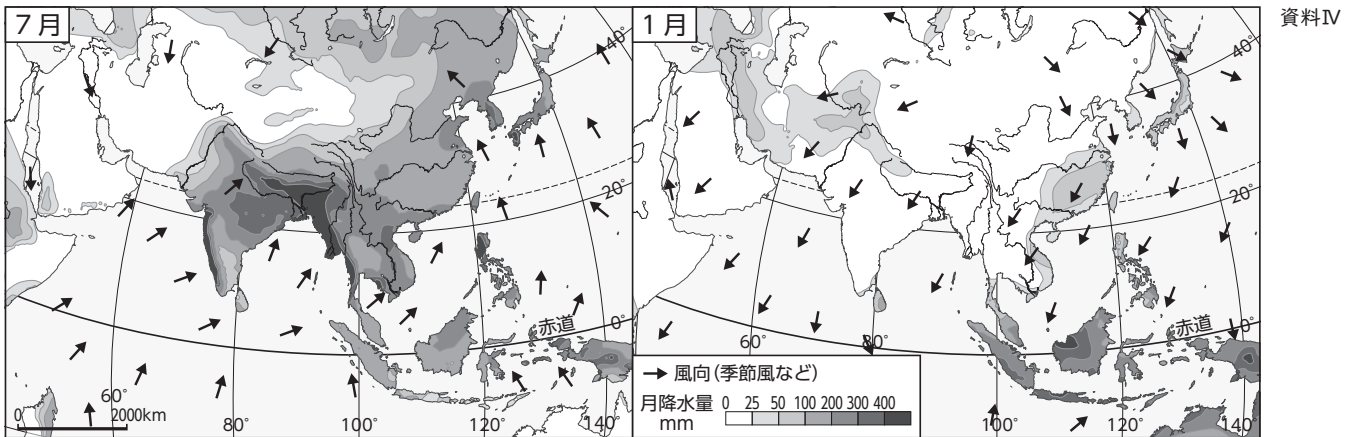
(1) 資料Ⅲの3都市の位置を図Ⅰで確認し、クアラルンプールとリヤドの気候の特色を資料Ⅲを参考に説明してみよう。

クアラルンプール	
リヤド	

資料Ⅲ



(2) 資料Ⅳはアジア州の7月と1月の降水量を示した地図です。



① トンレサップ湖の位置を地図帳で確認し、資料Ⅳの7月と1月それぞれに赤丸で記入してみよう。

② 7月と1月の風向きが異なりますが、このように季節によって変化する風を何といいますか。

③ トンレサップ湖の7月と1月の景色が大きく異なる理由を説明してみよう。

本時のまとめ

◆ アジアの気候の特色について、写真4や図5を見ながら、「季節風」の語句を使って説明しよう。

.....

.....

.....